
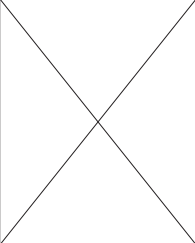
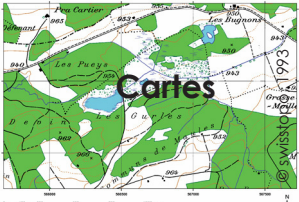


Fiche N°	Les enfants du marais	Type	Degrés	
1.5	Une chronologie cartographique		3-4P	5-6P

Consignes

Par groupes de 5, prenez connaissance des documents cartographiques et photographiques (sans les retourner, solution au verso), puis réalisez les tâches suivantes :

- ordonnez les 4 photos aériennes et les 5 cartes sur la base du tableau de classement suivant; argumentez votre décision :

		1945	1974	1992	2005
	1900	1945	1974	1993	2006

- corrigez votre classement à l'aide du verso des documents
- sur papier calque, indiquez des éléments qui montrent l'évolution de cette zone entre 1945 et 2006 selon la légende ci-après :
 - au crayon à papier, notez les éléments correspondant à l'année 1945
 - en couleur, dessinez la situation en 2006

légende :

	= forêt
	= zone marécageuse
	= étang