



















| | | | | |
|----------|---|---|--------|------|
| Fiche N° | Les dents de la mare | Type | Degrés | |
| 6.5 | La chaîne alimentaire du biotope « étang » |  | 3-4P | 5-6P |

Consigne

1. Utilise tes connaissances et les ouvrages de référence à ta disposition et associe chaque nom à son illustration en copiant les étiquettes dans les rectangles au-dessus des illustrations.
2. Dispose les photos sur une table en les reliant à l'aide de flèches.

 = « ...se nourrit de... »

| | | |
|-----------------------|--------------|---------------------------|
| la perche | le renard | la poule d'eau |
| la larve de libellule | la notonecte | l'escargot d'eau (limnée) |
| le dytique | le têtard | algues et débris végétaux |

| | | |
|---|--|---|
|  |  |  |
|  |  |  |
|  |  |  |
|  |  |  |
|  |  |  |
|  |  |  |

| | | | | |
|----------|--|------|--------|------|
| Fiche N° | Les dents de la mare | Type | Degrés | |
| 6.5 | La chaîne alimentaire du biotope « étang » (corrigé) | | 3-4P | 5-6P |

en rouge: solutions faciles
en gris: solutions plus difficiles

